

## ÔN TẬP TOÁN – ĐỢT 5

### BÀI ÔN 1:

#### I, Trắc nghiệm.

Khoanh vào chữ cái đặt trước các câu trả lời đúng nhất.

**Câu 1. Trong phép tính  $4 \times 6$ , số 24 được gọi là:**

- A, Thừa số
- B, Số hạng
- C, Tổng
- D, Tích

**Câu 2. Kết quả của phép tính:  $5 \times 8$  là:**

- A, 35
- B, 40
- C, 45
- D, 50

**Câu 3. Mỗi nhóm có 3 học sinh. Hỏi 10 nhóm như thế có bao nhiêu học sinh?**

- A, 20 học sinh
- B, 14 học sinh
- C, 30 học sinh
- D, 40 học sinh

**Câu 4: Chuyển tổng  $4 + 4 + 4 + 4 + 4$  thành tích là:**

- A,  $4 \times 4$
- B,  $4 \times 5$
- C,  $4 \times 6$
- D,  $6 \times 4$

**Câu 5. Cho dãy số 2; 4; ;8.....số tiếp theo của số này là:**

- A, 10
- B, 12
- C, 14
- D, 16

**Câu 6. Cho dãy phép tính .....+ 24 = 45. Số thích hợp điền vào chỗ chấm là:**

- A, 6
- B, 7
- C, 21
- D, 19

#### II. Tự luận.

##### Bài 1. Tính:

a,  $3 \times 4 + 17 = \dots\dots\dots$   
 $= \dots\dots\dots$

b)  $2 \times 10 - 8 = \dots\dots\dots$   
 $= \dots\dots\dots$

c,  $4 \times 9 + 24 = \dots\dots\dots$   
 $= \dots\dots\dots$

d,  $5 \times 1 \times 4 = \dots\dots\dots$   
 $= \dots\dots\dots$

**Bài 2: Số?**

- a)  $3 \times \dots\dots = 15$
- b)  $\dots\dots \times 2 = 6$
- c)  $4 \times \dots\dots = 12$
- d)  $\dots\dots \times 8 = 32$
- e,  $\dots\dots \times 10 = 20$
- g)  $3 \times \dots\dots = 21$
- h)  $5 \times \dots\dots = 40$
- i)  $3 \times \dots\dots = 27$

**Bài 4.** Không tính kết quả, hãy điền dấu “>,”<” hoặc “=” thích hợp vào ô trống:

- a,  $4 \times 5 \dots 4 + 4 + 4 + 4 + 4$
- b)  $6 + 6 + 6 + 6 \dots 6 \times 4$
- c)  $3 + 3 + 3 + 3 \dots 3 \times 3$
- d)  $5 \times 3 \dots 5 + 5 + 5 + 5$

**Bài 5:** Có 6 lọ hoa, mỗi lọ cắm 3 bông hoa. Hỏi có tất cả bao nhiêu bông hoa?

Bài giải

.....  
.....  
.....  
.....

**BÀI ÔN 2:**

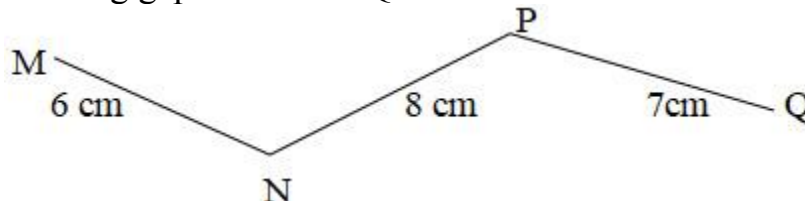
**. Phần trắc nghiệm:**

**Câu 1:** Khoanh vào chữ đặt trước câu trả lời đúng:

Viết tổng sau dưới dạng tích  $3 + 3$

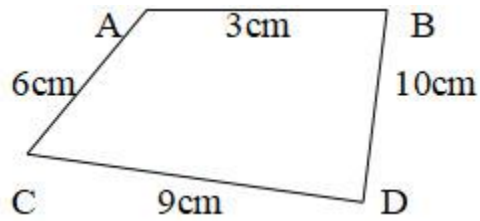
- A.  $3 \times 3$
- B.  $3 \times 2$
- C.  $3 \times 5$
- D.  $3 \times 4$

**Câu 2:** Độ dài đường gấp khúc MNPQ là:



- A. 20cm
- B. 21dm
- C. 21cm
- D. 12cm

**Câu 3:** Chu vi hình tứ giác ABCD là:



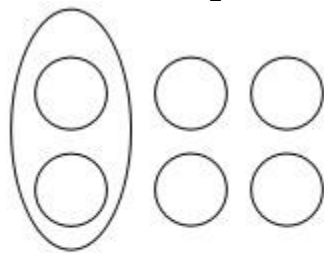
- A. 16cm
- B. 34cm
- C. 28dm
- D. 28cm

**Câu 4:**

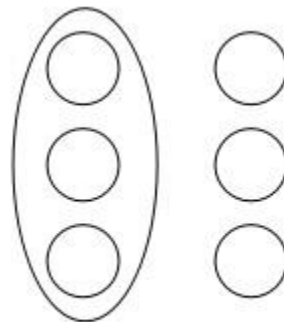
a. Phép chia  $20 : 2 = 10$  Số chia là

- A. 20
- B. 10
- C. 9
- D. 2

b. Hình nào đã khoanh vào  $\frac{1}{2}$  số vòng tròn



**A**



**B**

c.  $15 + 15 + 15 = ?$

- A. 55
- B. 45
- C. 65
- D. 75

**Câu 5:** Số cần điền vào chỗ chấm là:

$$5\text{cm} + 17\text{cm} - 19\text{cm} = \dots\dots\dots$$

- A. 48cm
- B. 3dm
- C. 3cm
- D. 48dm

**Câu 6:** Nối X với số thích hợp.

$$11 < 4 \times X < 13$$

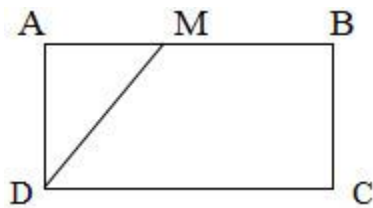
1

2

3

4

**Câu 7:**



- a. Hình ABCD là hình.....  
b. Hình AMD là hình.....

**Câu 8:** Điền số.

$$2\text{dm} = \dots\dots\dots\text{cm}$$

$$30\text{cm} = \dots\dots\dots\text{dm}$$

**Câu 9:** Trong lớp có 18 học sinh, cứ 2 học sinh ngồi chung một bàn. Hỏi cần bao nhiêu bàn?

Bài giải

.....  
.....  
.....

**Câu 10:** Tìm x:

$$4 + x = 28 - 3$$

**BÀI ÔN 3:**

**Bài 1.** Số chẵn liền sau 96 là:

- A. 98
- B. 94
- C. 100
- D. 96

**Bài 2.** Kết quả của phép tính:  $86 - 38 + 19$  là:

- A. 57
- B. 79

C. 87

D. 67

**Bài 3.** Ngày 14 tháng 1 năm 2018 là chủ nhật tuần này. Hỏi thứ bảy tuần sau là ngày nào?

A. 20

B. 21

C. 22

D. 19

**Bài 4.** Trong một phép trừ, khi ta cùng thêm 5 đơn vị vào số bị trừ và số trừ thì hiệu sẽ thay đổi như thế nào?

A. Hiệu giảm 5 đơn vị.

B. Hiệu tăng lên 5 đơn vị

C. Hiệu không đổi.

**Bài 5.** " 3 được lấy 5 lần" ta được phép tính nào đúng nhất :

A.  $5 \times 3$

B.  $3 + 5$

C.  $3 \times 5$

D.  $5 + 5 + 5$

**Bài 6.** Một con chó có 4 cái chân. Vậy 5 con chó có tất cả bao nhiêu cái chân ?

A. 20

B. 14

C. 16

D. 18

## II. TỰ LUẬN:

**Bài 1.** Đặt tính và tính

a.  $36 + 45$

B.  $73 - 39$

C.  $45 + 44$

D.  $88 - 79$

.....  
.....  
.....

**Bài 2.** Tính :

a)  $65 - 5 - 2 =$  .....

$=$  .....

b)  $2 \times 8 + 34 =$  .....

$=$  .....

c)  $50 - 34 + 16 =$  .....

$=$  .....

**Bài 3.** Tìm x

a)  $x + 37 = 73 - 5$

.....

.....

.....

b)  $41 - x = 25$

.....  
.....  
.....

**Bài 4.** Nhà Lan có 8 cái ghế tựa, mỗi cái ghế có 4 chân . Hỏi 8 cái ghế có tất cả bao nhiêu cái chân ?

Bài giải

.....  
.....  
.....

**Bài 5.** Một đường gấp khúc gồm 3 đoạn thẳng có độ dài lần lượt là: 8cm, 13cm, 1dm. Tính độ dài đường gấp khúc đó?

Bài giải

.....  
.....  
.....